

# Übungen für die Woche 23.03. bis 27.03.2020



Lese die Uhrzeit ab, es ist nach Mittag? \_\_\_\_\_

Wie spät ist es 3 Stunden und 40 Minuten später? \_\_\_\_\_

Welche Uhrzeit war 2 einhalb Stunden vorher? \_\_\_\_\_

Wie lange dauert es noch bis 17.30 Uhr. \_\_\_\_\_

\_\_\_\_\_ Uhr

J	A	A	B	F	Y	M	B	O	A	D	L	E	R	C
K	H	N	Ä	F	Y	T	I	G	E	R	G	Y	A	B
A	H	T	R	J	V	Y	F	W	F	J	L	Z	E	W
T	Q	I	Q	G	Z	E	W	P	G	X	N	X	L	A
Z	H	L	G	Q	X	V	K	K	I	R	W	C	E	A
E	C	O	R	M	A	U	S	N	R	I	V	C	F	G
M	Q	P	X	G	O	S	K	P	A	X	F	Z	A	N
W	V	E	U	W	A	L	E	O	F	Z	P	Y	N	X
Z	U	C	M	L	U	F	K	B	F	P	X	H	T	Y
F	L	Z	H	U	N	D	P	I	E	K	B	K	A	J

Ein kleines  
Rätsel für  
zwischen durch.  
10 Tiere sind  
versteckt.

3+5=?



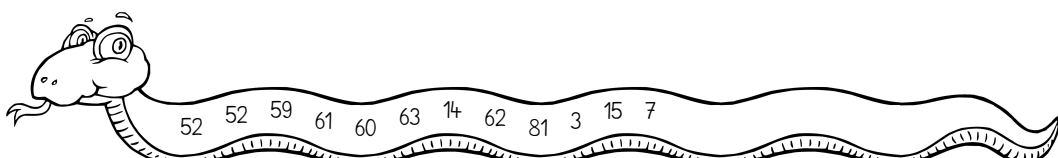
Kopfrechnen, echt lecker fürs Gehirn!

\_\_\_\_\_ - 30 = 31      \_\_\_\_\_ + 45 = 97      \_\_\_\_\_ - 28 = 31

\_\_\_\_\_ • 19 = 57      \_\_\_\_\_ • 4 = 28      \_\_\_\_\_ : 3 = 20

\_\_\_\_\_ + 75 = 90      \_\_\_\_\_ : 9 = 7      \_\_\_\_\_ • 5 = 70

\_\_\_\_\_ : 1 = 52      \_\_\_\_\_ - 49 = 32      \_\_\_\_\_ + 25 = 87





# Schriftliches Rechnen

6	3	6	•	1	3
<hr/>					

3	8	8	•	1	9
<hr/>					

3	7	4	•	2	3
<hr/>					

4	3	2	:	2	7	=

6	1	1	:	4	7	=

	T	H	Z	E
		4	2	4
+		6	5	6
+		3	3	2
+		6	5	1
+		4	0	4
+		7	7	6
<hr/>				

	T	H	Z	E
		7	7	4
+		3	5	8
+		2	4	7
+		7	6	6
+		8	5	5
+		8	7	7
<hr/>				

	H	Z	E
	8	3	4
-	1	5	9
-	1	0	7
-	1	5	8
-	1	1	2
-	1	4	7
<hr/>			

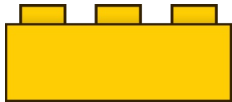
	H	Z	E
	7	6	4
-	1	8	6
-	1	4	1
-	1	0	1
-	1	0	0
-	1	0	9
<hr/>			



	HT	ZT	T	H	Z	E
	2	8	4	3	7	8
+	3	7	3	6	6	1
+	2	4	1	1	0	5
<hr/>						



Wie viele verschiedene Möglichkeiten findest du, wenn du jeden Legostein nur ein Mal benutzen darfst?



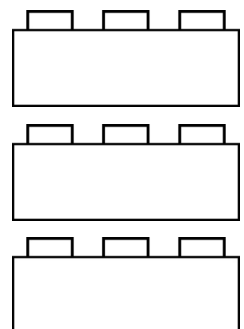
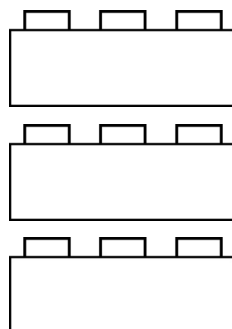
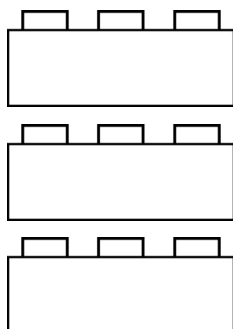
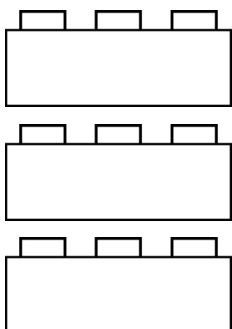
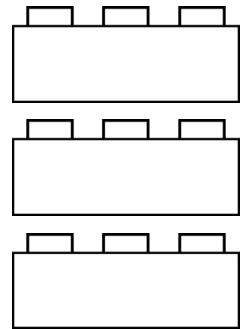
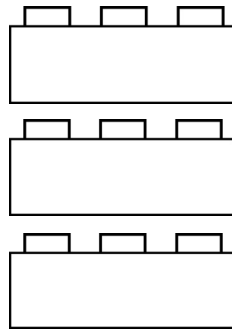
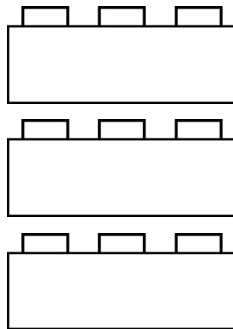
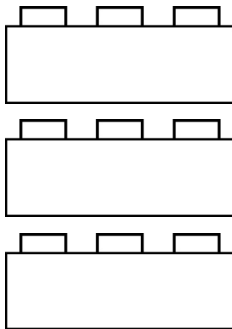
gelb



grün



rot



Es gibt \_\_\_\_\_ verschiedene Möglichkeiten.